

INSTITUCION EDUCATIVA MARINO RENJIFO SALCEDO

Sede José Acevedo y Gómez

Candelaria (valle)

TALLER DE MATEMATICAS

GRADO:

PRIMERO

DOCENTE:

Margarita Salcedo



Cuanta los dedos de cada mano y une con el número correcto



	5	
	10	
	1	
	8	
	4	
	7	
	3	
	2	
	6	
	0	
	9	



Escribe el número correcto en cada recuadro

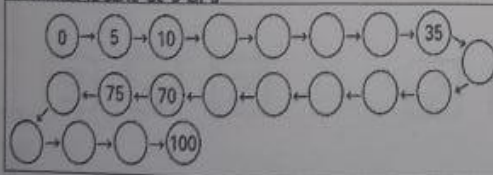
NOMBRE: \_\_\_\_\_ FECHA: \_\_\_\_\_

Ayuda al perrito a encontrar el camino para llegar a su comida.

60	59	58	57			8	9		
61	62	63	56		6	7	10		
70	69	64	55		5	4	11		
71	68	65	54		51	50	1	2	3
72	67	66	53	52	49	16	15	14	13
73	74	75	78	79	48	17	18	21	22
86	85	76	77	80	47	46	19	20	23
87	84	83	82	81	44	45	28	25	24
88	89	98	99	100	43	42	27	28	29
91	90	97				41	40	31	30
92	95	96				38	39	32	33
93	94						37	36	35

87	88	89	90	97	98	99				
86	85	84	91	96	95	100				
79	80	83	92	93	94					
78	81	82	71	70	69	62		61	58	57
77	76	75	72	67	68	63	60	59	56	
10	11	74	73	66	65	64	53	54	55	
9	12	13	14	15	16	51	52	47	46	
8	5	4	3	18	17	50	49	48	45	
7	6		2	19	28	29	30	31	44	
			1	20	27	36	35	32	43	
				22	21	26	37	34	33	42
					23	24	25	38	39	40

Continúa la serie de 5 en 5



Completa:

100 - <u>    </u> = 70	100 - 30 = <u>    </u>	100 - <u>    </u> = 90
<u>    </u> - 50 = 50	<u>    </u> - 20 = <u>    </u>	<u>    </u> - 60 = 40
100 - 25 = <u>    </u>	100 - 36 = <u>    </u>	100 - 14 = <u>    </u>
<u>    </u> - 20 = 80	100 - <u>    </u> = 70	<u>    </u> - 40 = 60

Nombre : \_\_\_\_\_ Fecha: \_\_\_\_\_

Marca con una cruz la respuesta correcta

$4 + 3$

$9 + 1$

$7 + 2$

7  2  6

8  5  10

9  4  6

$5 + 3$

$2 + 2$

$5 + 4$

2  5  8

4  3  1

8  7  9

$2 + 2$

$1 + 1$

$2 + 1$

3  4  7

2  4  3

3  8  6

$6 + 5$

$8 + 7$

$7 + 6$

11  14  10

15  12  9

13  8  15



En las cartillas deben desarrollar las siguientes páginas y copiarlas en el cuaderno de matemáticas.

- Pág. 15

- Pág. 16

- Pág. 19

- Pág. 21

- Pág. 71

- Pág. 118

- Pág. 119

- Pág. 120